

Φύλλα εργασίας Β' Φαση (1)

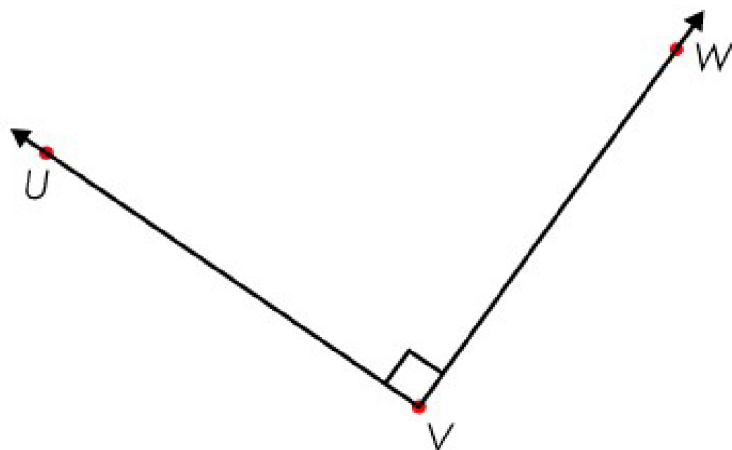
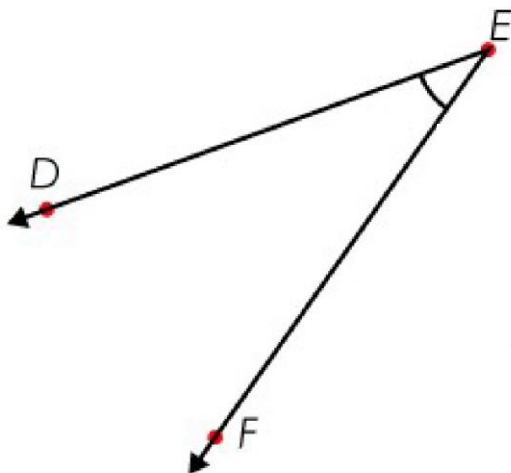
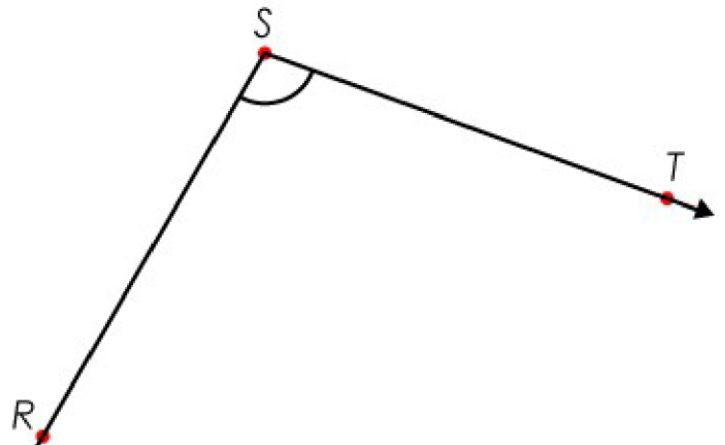
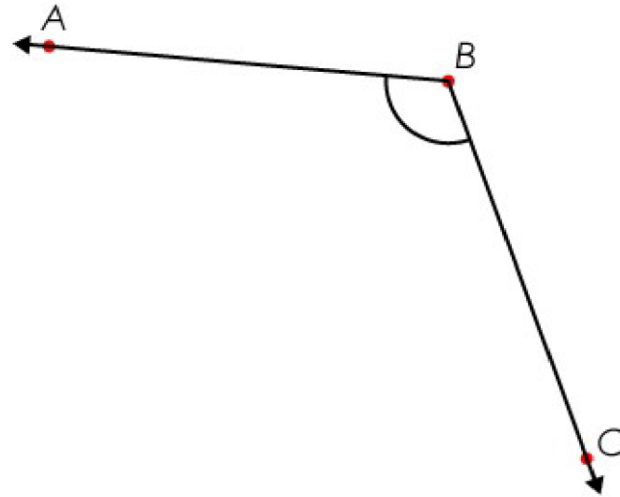
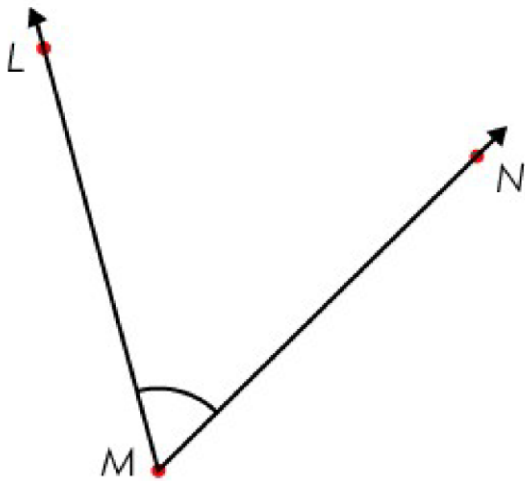
Χρησιμοποιώ το μοιρογνωμόνιο για να βρω πόσες μοίρες είναι το μέγεθος των πιο κάτω γωνιών.

Είδη γωνιών

(α) _____ 90°

(β) _____ 90°

(γ) _____ 90°



Χρησιμοποίησε το μοιρογνωμόνιό σου και κατασκεύασε τις πιο κάτω γωνίες.

$$\hat{\alpha} = 115^{\circ}$$

$$\hat{\beta} = 43^{\circ}$$

$$\hat{\gamma} = 148^{\circ}$$

$$\hat{\delta} = 80^{\circ}$$